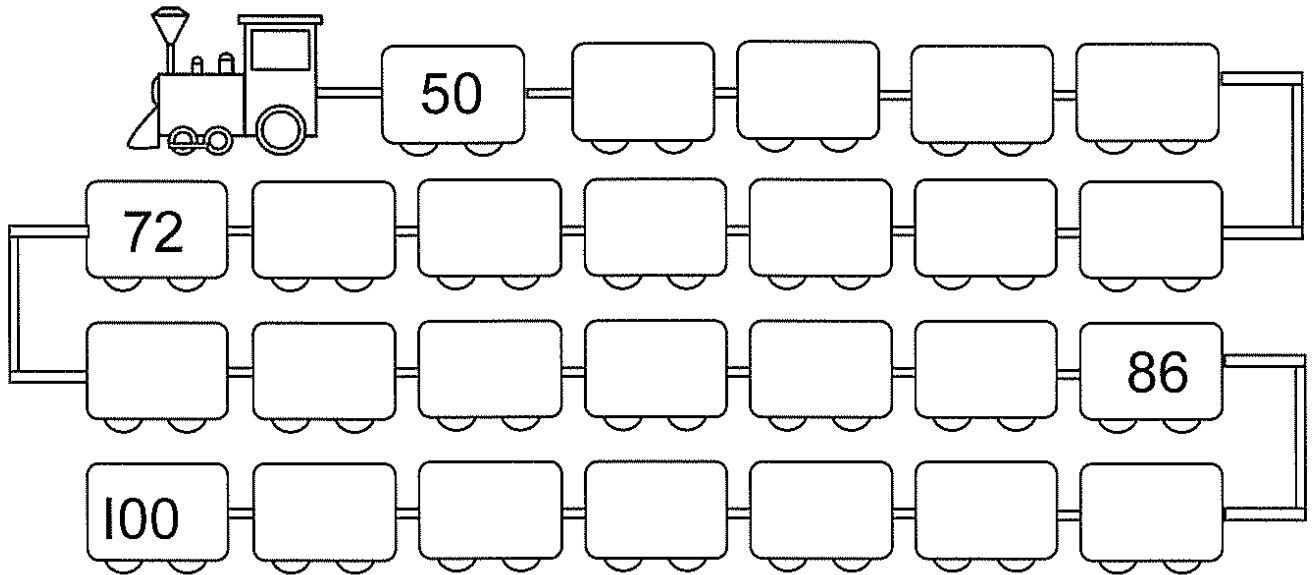


聖斯德望天主教幼稚園
2019-2020 年度下學期
K3 識數工作紙 (一)

姓名：_____ 班別：_____ 日期：_____

(一) 請順序寫出 50-100 以內的雙數。



(二) 請將數字由大至小重新排列並寫在空格內。

18	26	40	7	35
40				


55	36	28	70	5

60	88	22	8	33

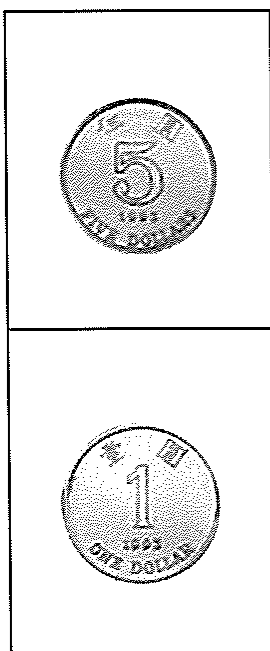
聖斯德望天主教幼稚園
2019-2020 年度下學期
K3 識數工作紙 (二)

姓名：_____ 班別：_____ 日期：_____


(一) 請按下列物品的價格，聯上適當的幣值。



(二) 請按以下的硬幣，圈出相應的幣值。




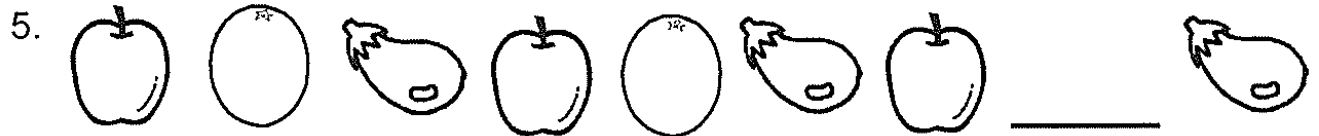
=



聖斯德望天主教幼稚園
2019-2020 年度下學期
K3 識數工作紙 (三)

姓名：_____ 班別：_____ 日期：_____


請依下圖的排序來畫出適當的圖案於橫線上。




聖斯德望天主教幼稚園
2019-2020 年度下學期
K3 識數工作紙 (四)

姓名：_____ 班別：_____ 日期：_____


(一) 請根據時鐘上顯示的時間，把答案填寫在橫線上。




3 時正




_____ 時 _____




_____ 時 _____



_____ 時半






_____ 時 _____



_____ 時 _____

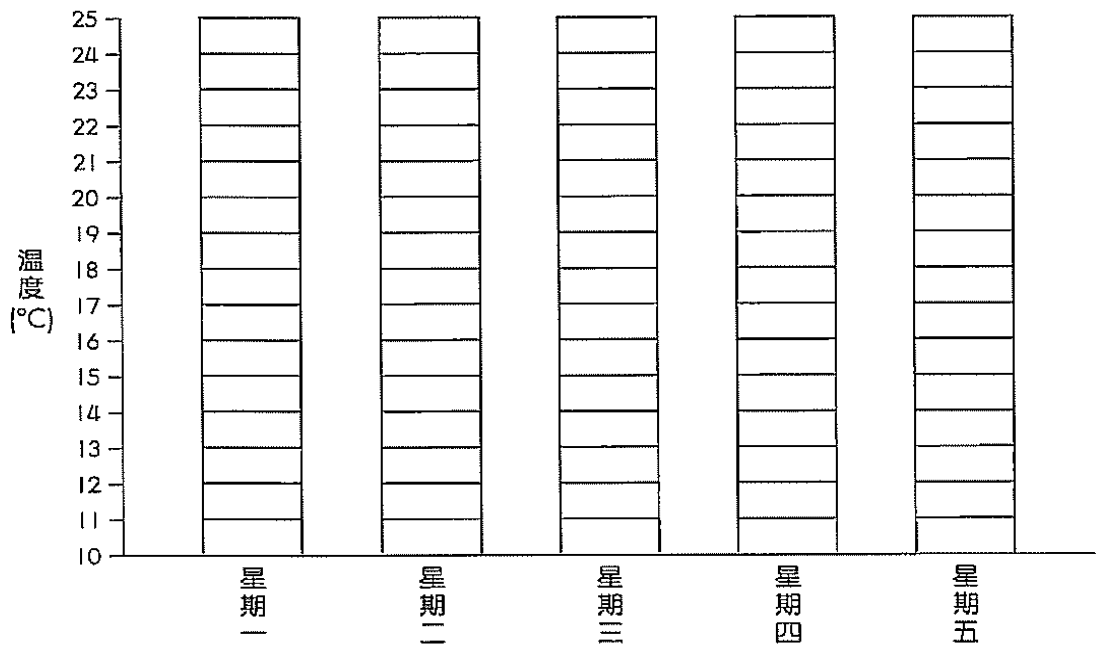
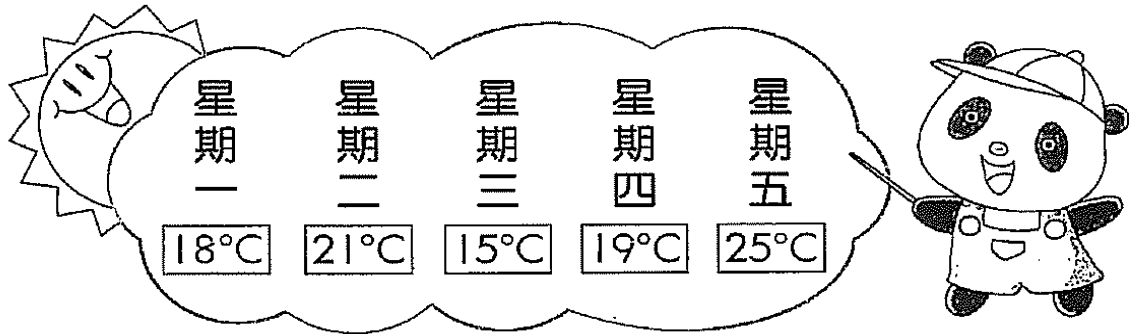
(二) 請把時鐘所顯示的時間填寫在 內。



聖斯德望天主教幼稚園
2019-2020 年度下學期
K3 識數工作紙 (五)

姓名：_____ 班別：_____ 日期：_____

(一) 請根據每天的溫度顯示，用顏色筆填上相等的氣溫度數。















(二) 據上述天氣報告的顯示，找出正確答案。









1. 今天是星期三，氣溫是_____°C。
2. 昨天是星期____，氣溫是_____°C。
3. 明天是星期____，氣溫是_____°C。

聖斯德望天主教幼稚園
2019-2020 年度下學期
K3 識數工作紙 (六)

姓名：_____ 班別：_____ 日期：_____

請比較 A、B、C 三組水果的數量，然後回答下列問題。

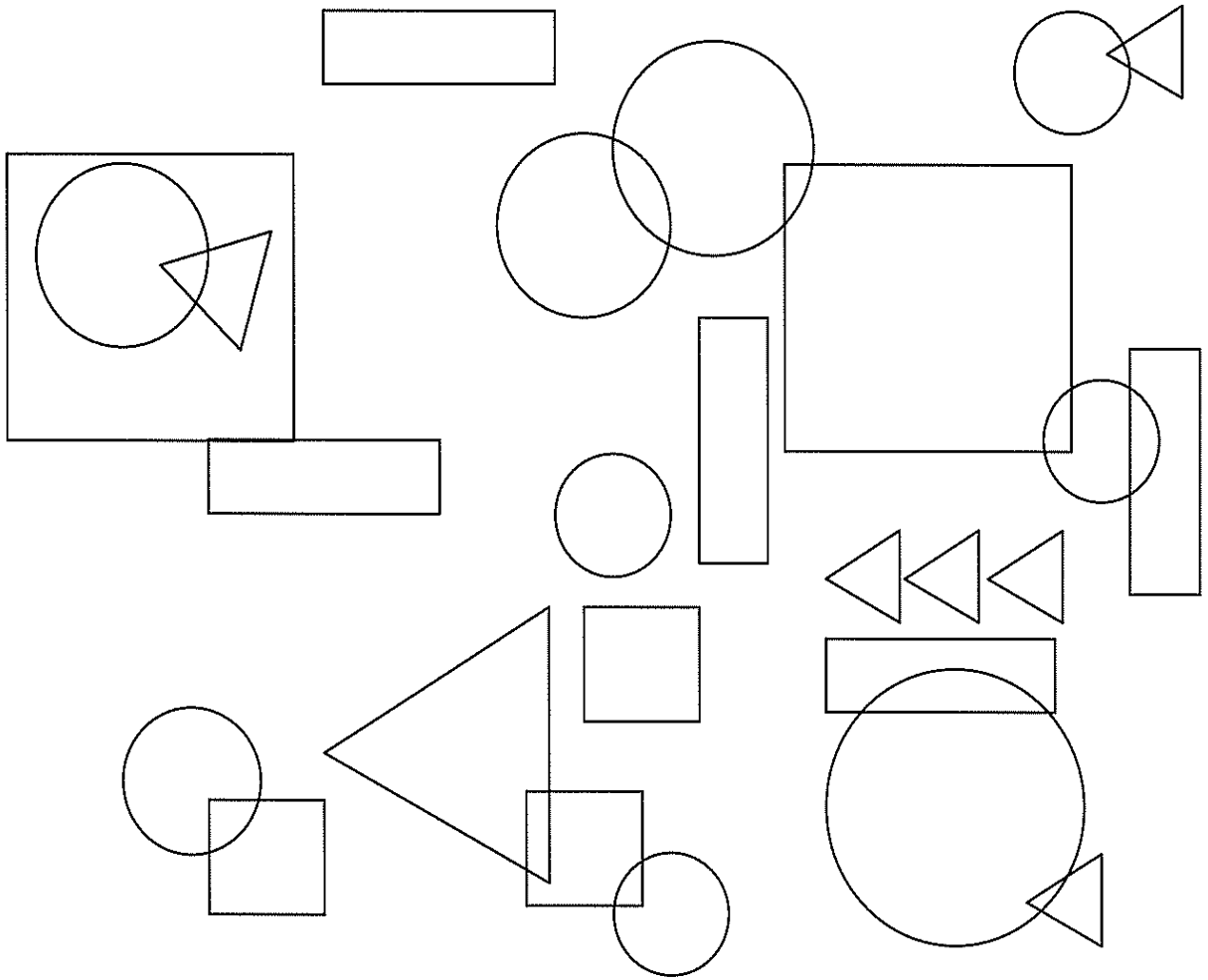
A 組	B 組	C 組
		
		
		
		





- 1) 在三組中，哪一組的  最多？ _____ 組
- 2) 在三組中，哪一組的  最少？ _____ 組
- 3) 在三組中，哪一組的  最多？ _____ 組
- 4) 在三組中，哪一組的  最少？ _____ 組
- 5) 在三組中，哪一組的水果最多？ _____ 組
- 6) A 組的  比 B 組的  少 _____ 個。
- 7) A 組的  比 C 組的  多 _____ 個。

聖斯德望天主教幼稚園
2019-2020 年度下學期
K3 識數工作紙 (七)

姓名：_____ 班別：_____ 日期：_____

請找出正方形、三角形、圓形和長方形，並把數量寫在橫線上。



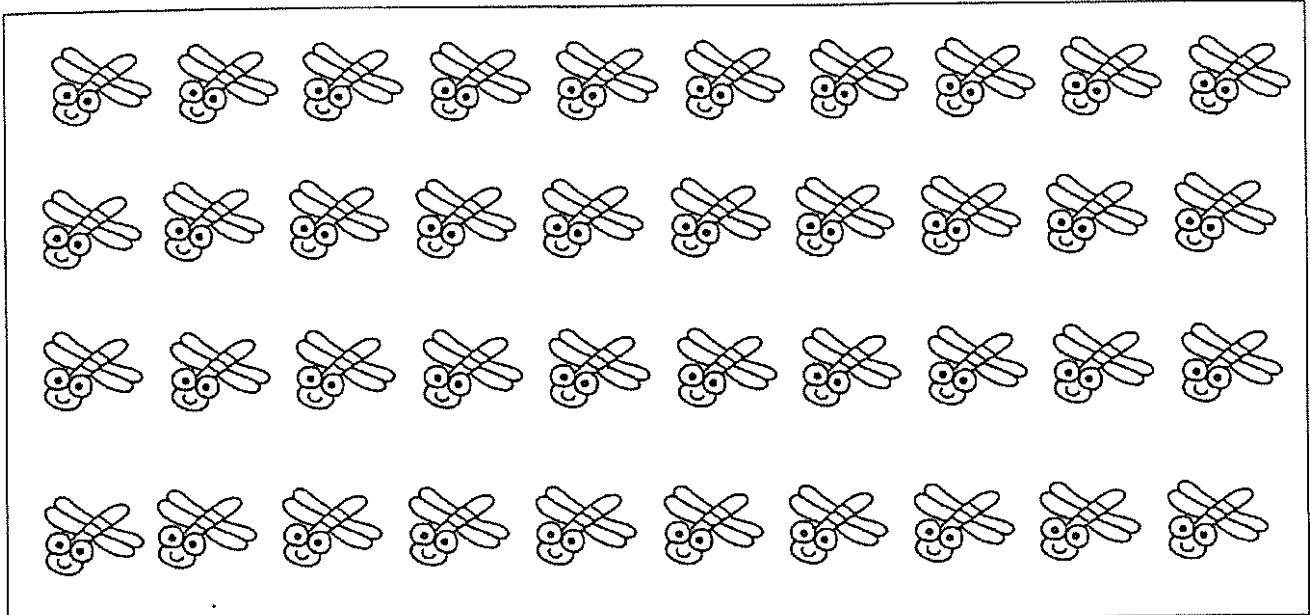
	_____ 個		_____ 個
	_____ 個		_____ 個


聖斯德望天主教幼稚園
2019-2020 年度下學期
K3 識數工作紙 (八)

姓名：_____ 班別：_____ 日期：_____


請以 5 個一數的方法圈出蜻蜓和蝸牛，並回答有關問題。


1



上圖共有 _____ 隻  蜻蜓，若以 5 隻為一組則有 _____ 組。

2



上圖共有 _____ 隻  蝸牛，若以 5 隻為一組則有 _____ 組。

聖斯德望天主教幼稚園
2019-2020 年度下學期
K3 識數工作紙 (九)

姓名：_____ 班別：_____ 日期：_____

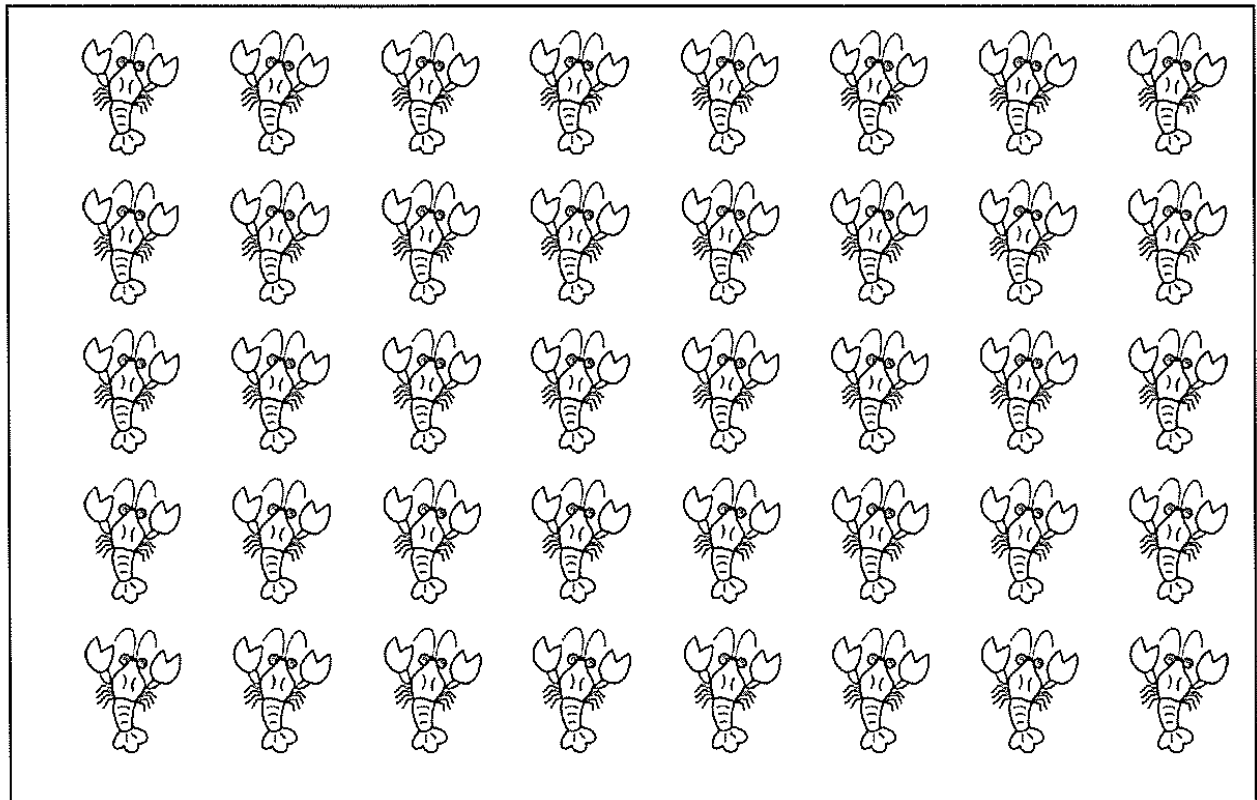
請以 10 個一數的方法圈出金魚和龍蝦，並回答有關問題。

1



上圖有 () 組魚，合共有 () 條魚。

2



上圖有 () 組龍蝦，合共有 () 隻龍蝦。

聖斯德望天主教幼稚園
2019-2020 年度下學期
K3 識數工作紙 (十)

姓名：_____ 班別：_____ 日期：_____

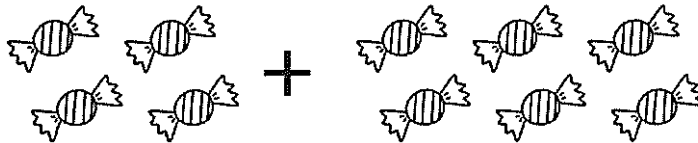
請根據文字題來運算答案。

1. 操場上有 7 名學生在踢足球，再有 2 名學生加入，操場上共有多少名學生？



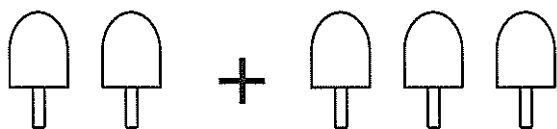
$$7 + 2 = \underline{\quad}$$

2. 外婆送給弟弟 4 粒糖，哥哥再送給他 6 粒糖，請問弟弟共有多少粒糖？



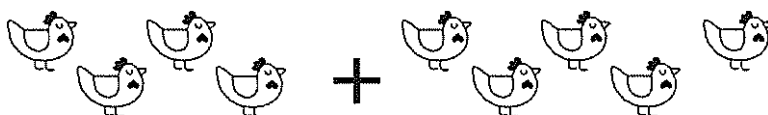
$$4 + 6 = \underline{\quad}$$

3. 媽媽買了 2 條紅豆雪條和 3 條綠豆雪條，媽媽共買了多少條雪條回家？



$$2 + 3 = \underline{\quad}$$

4. 弟弟養了 4 隻小雞，哥哥養了 5 隻小雞，他們共養了多少隻小雞？



$$4 + 5 = \underline{\quad}$$

聖斯德望天主教幼稚園
2019-2020 年度下學期
K3 識數工作紙 (十一)

姓名：_____ 班別：_____ 日期：_____

請根據文字題來運算答案，並填上數字。

1.


小明在沙灘上拾了 7 顆貝殼，妹妹拾了 1 顆貝殼，他們共拾了多少顆貝殼？



$$\underline{\quad} + \underline{\quad} = \underline{\quad}$$

2.

氣球 10 個，破了 6 個，餘下有多少個氣球？



$$\underline{\quad} - \underline{\quad} = \underline{\quad}$$

3.

媽媽買了 8 個蘋果，爸爸再買了 2 個蘋果，他們共有多少個蘋果？



$$\underline{\quad} + \underline{\quad} = \underline{\quad}$$

4.

農場裏有 9 頭乳牛，走了 2 頭，農場裏還剩下多少頭乳牛？









$$\underline{\quad} - \underline{\quad} = \underline{\quad}$$




聖斯德望天主教幼稚園
2019-2020 年度下學期
K3 識數工作紙 (十二)




姓名：_____ 班別：_____ 日期：_____




請依指示填上顏色，並寫上混合顏色的名稱。

1.  +  = 
紅色 黃色 _____ 色

2.  +  = 
紅色 藍色 _____ 色

3.  +  = 
黃色 藍色 _____ 色

4.  +  = 
黃色 綠色 _____ 色

5.  +  = 
黑色 白色 _____ 色

聖斯德望天主教幼稚園
2019-2020 年度下學期
K3 識數工作紙 (十三)

姓名：_____ 班別：_____ 日期：_____

請根據文字題來運算答案。

1.

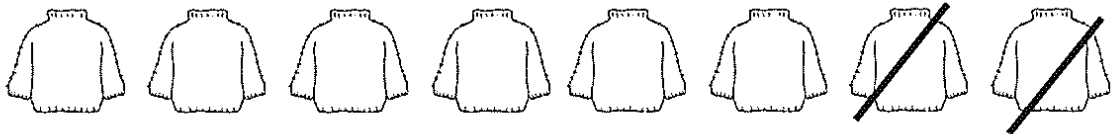
樹上有 7 隻松鼠，其中有 3 隻離開樹上，現在樹上還有多少隻松鼠？



$$7 - 3 = \underline{\quad}$$

2.

衣櫃內有 8 件毛衣，取了 2 件毛衣來清洗，還剩下多少件毛衣？



$$\underline{\quad} - \underline{\quad} = \underline{\quad}$$

3.

小巴士站有 9 輛小巴，開出 4 輛，站內剩下多少輛小巴？



$$\underline{\quad} - \underline{\quad} = \underline{\quad}$$

4.

雪櫃內有 5 個雪梨，請用斜線刪去吃了的 1 個，還剩下多少個雪梨？



$$\underline{\quad} - \underline{\quad} = \underline{\quad}$$

聖斯德望天主教幼稚園
2019-2020 年度下學期
K3 識數工作紙 (十四)

姓名：_____ 班別：_____ 日期：_____

請根據文字題來運算答案。

1.

巴士上有 9 名乘客，之後有 2 名乘客落車，巴士上還有多少名乘客？



$$9 - 2 = \underline{\quad}$$

2.

美美有 5 個雞蛋糕，她請嘉嘉吃了 3 個，還剩下有多少個雞蛋糕？



$$\underline{\quad} - \underline{\quad} = \underline{\quad}$$

3.

桌上有 6 杯果汁，小明喝了 1 杯，現在剩下多少杯果汁？



$$\underline{\quad} - \underline{\quad} = \underline{\quad}$$

4.

一盒蠟燭有 8 枝，請用斜線刪去用了的 7 枝，還剩下的蠟燭有多少枝？

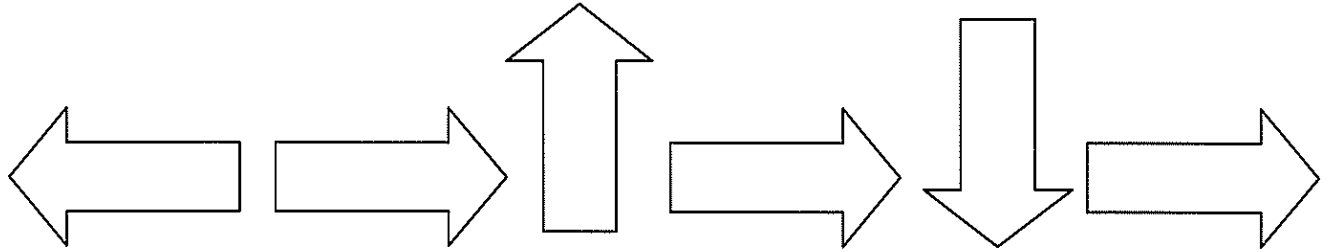


$$\underline{\quad} - \underline{\quad} = \underline{\quad}$$

聖斯德望天主教幼稚園
2019-2020 年度下學期
K3 識數工作紙 (十五)

姓名：_____ 班別：_____ 日期：_____

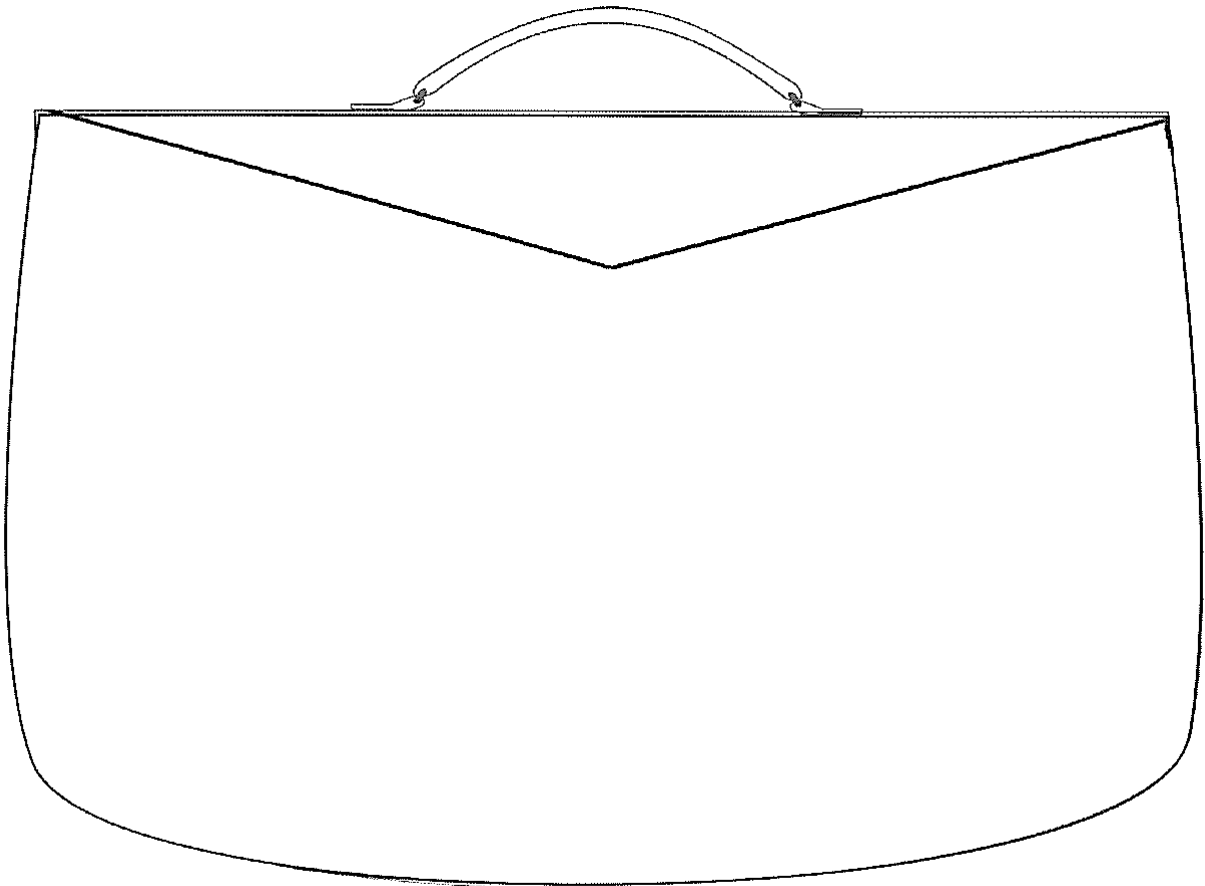
(一) 請數出以下箭咀的數量，並回應下列問題。



向右方箭咀共有_____個。

向左方箭咀共有_____個。

(二) 請在袋內畫上 2 個向左方的箭咀，3 個向右方的箭咀。

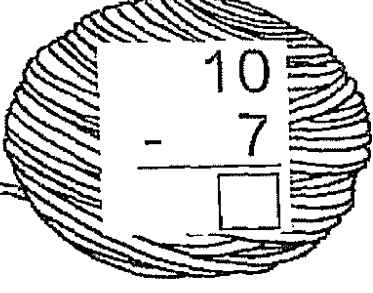


聖斯德望天主教幼稚園
2019-2020 年度下學期
K3 識數工作紙 (十六)

姓名：_____ 班別：_____ 日期：_____

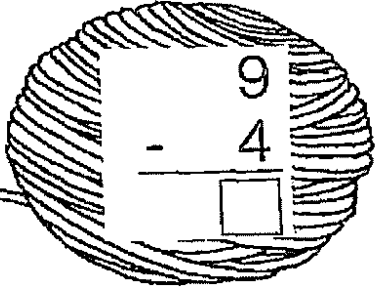
請完成以下之橫式和直式的運算。

$10 - 7 = \square$



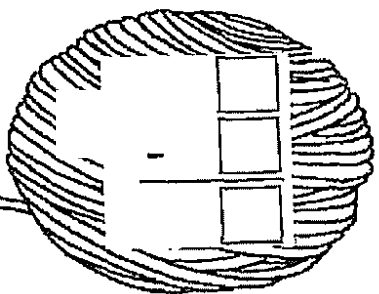
10
- 7
—
□

$9 - 4 = \square$



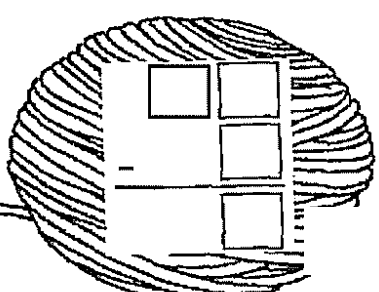
9
- 4
—
□

$8 - 5 = \square$



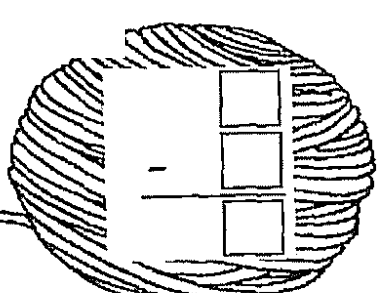
8
- 5
—
□

$10 - 5 = \square$



10
- 5
—
□

$9 - 6 = \square$



9
- 6
—
□